



Evaluación Ordinaria 05/02/2018
Prueba Nivel I Módulo II (2º)
Ámbito Social

GOBIERNO DE EXTREMADURA

Consejería de Educación y Cultura

CALIFICACIÓN

Nombre y apellidos: _____

Fecha de nacimiento: _____ Localidad donde se realiza la Prueba: _____

ÁMBITO SOCIAL

La prueba consta de 2 partes:

Primera parte, CONCEPTUAL. El valor de esta primera parte es **de 5 puntos**.

En las preguntas de test, cada respuesta acertada se contabilizará con 0,5 puntos. Las respuestas en blanco no se contabilizarán. Cada **respuesta errónea restará 0,25 puntos**.

Segunda parte, PROCEDIMENTAL. Esta segunda parte tiene un valor total **de 5 puntos**.

En esta **segunda parte es imprescindible** obtener **al menos 1,5 puntos** para considerar el examen aprobado, siempre que la suma de **ambas partes alcance un mínimo de 5**.

Se tendrá muy en cuenta en la valoración de la **respuesta: la limpieza, la expresión (uso del vocabulario propio de la Geografía e Historia) y la ortografía**.

Cuide la presentación. Si Ud. realiza rectificaciones en alguna cuestión deje claro cuál es la opción que deberá ser corregida. En caso contrario no se puntuará.

Utilice si es necesario el reverso, de la/s página/s, en blanco, si las hubiere. Refleje sus respuestas con bolígrafo. El examen **a lápiz no** se corregirá y tendrá la calificación de 0. **NO** se podrá utilizar el teléfono **móvil, NI el diccionario**.

Coloque en esta tabla con letra mayúscula (A - B - C - D) la opción correcta. Sólo una opción es la correcta.

1	2	3	4	5	6

PRIMERA PARTE:

A) TEST (Valor 3 puntos)

- 1. Los visigodos, aliados de los romanos, acudieron a Hispania para expulsar a los pueblos bárbaros que la habían invadido.**
 - A) Suevos, alanos y francos.
 - B) Suevos y alanos.
 - C) Suevos, vándalos y alanos.
 - D) Alanos, anglos y sajones.

- 2. El Imperio romano de Oriente, con el nombre de Imperio bizantino tuvo como capital...**
 - A) Roma.
 - B) Constantinopla.
 - C) La Meca.
 - D) Jerusalén.

- 3. Tras la llegada de los árabes a la Península, se sucedieron una serie de etapas. Con la llegada de Abderramán I se inaugura...**
 - A) Los Reinos de Taifa.
 - B) Reino Nazarí de Granada.
 - C) Periodo Almohade.
 - D) Emirato Independiente.

- 4. Durante los siglos XIV y XV, a los cristianos que vivían en territorio musulmán se les denominaba...**
 - A) Judíos.
 - B) Mestizos.
 - C) Mozárabes.
 - D) Mudéjares.

- 5. Este tipo de arte utilizó elementos arquitectónicos como el rosetón, las vidrieras, gabletes y pináculos.**
 - A) Gótico.
 - B) Renacimiento.
 - C) Románico.
 - D) Islámico.

- 6.Cuál de estas partes no era característica de las ciudades cristianas.**
 - A) Medina.
 - B) El barrio.
 - C) La Plaza.
 - D) Ninguna de ellas.

B) DEFINICIÓN DE CONCEPTOS. (Valor 1 punto)

- Hégira. _____

- Mercantilismo. _____

- Ilustración. _____

- Demografía. _____

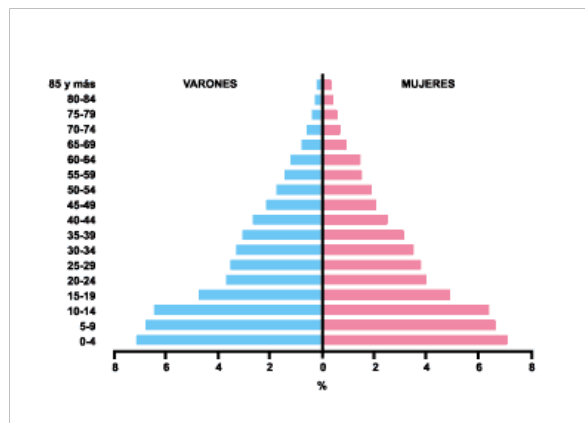
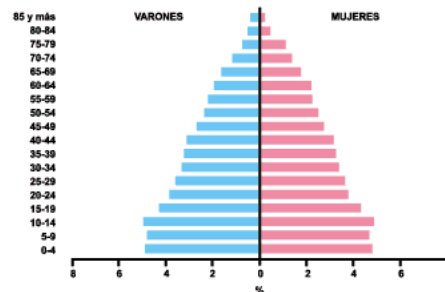
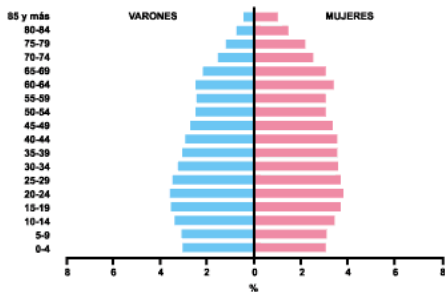
C) RELACIONA: (Valor 1 punto)

Coloque en la segunda columna el número (1,2,3...) según corresponda. NO UTILIZAR LÍNEAS.

- | | |
|-------------------------|---|
| 1. Capitalismo | _____ Impulsaron medidas para mejorar las condiciones de sus súbditos. |
| 2. Valido | _____ Basaba su poder en que había sido elegida por Dios. |
| 3. Ilustración | _____ Especie de primer ministro y hombre de confianza del rey. |
| 4. Fisiocracia | _____ Defendía la predestinación, las personas desde su nacimiento estaban salvadas o condenadas. |
| 5. Reforma protestante | _____ Trató de reconciliar la herencia de los valores clásicos con los cristianos. |
| 6. Despotismo ilustrado | _____ Revuelta de la burguesía y el pueblo contra los nobles. |
| 7. Calvinismo | _____ Movimiento religioso del siglo XVI. |
| 8. Humanismo | _____ La riqueza de un país se encuentra en la tierra. |
| 9. Germanías | _____ Movimiento cultural del siglo XVIII. |
| 10. Monarquía absoluta | _____ Nacimiento de la banca y uso de letras de cambio. |

2ª PARTE (valor total 5 puntos)

1. Clasifica cada una de las siguientes pirámides de población y enumera las características de cada una de ellas. (2 puntos)



2. El siglo XVI. Los Austrias mayores. Carlos V y Felipe II (2 puntos)

4. Teniendo en cuenta los siguientes datos de población sobre Extremadura, calcula: (1 punto)

Población 1.072. 884 hb
 Superficie 41. 634 km²
 Nacimientos 8.755
 Defunciones 11.172

- A) Densidad de población.
- B) Tasa de natalidad. Determinar si es baja, media o alta.
- C) Tasa de Mortalidad. Determinar si es baja, media o alta.
- D) Tasa de crecimiento natural. Determinar qué tipo de crecimiento natural se obtiene.